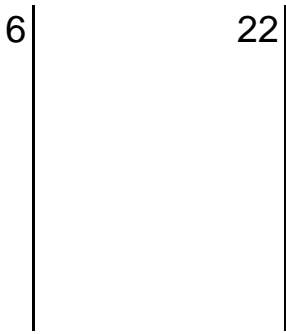


ggT und kgV Übung


Name: _____

Suche den ggT von (6 / 22)




gF _____ = _____
ggT von (6 /22) _____

Suche das kgV von (4 / 50)



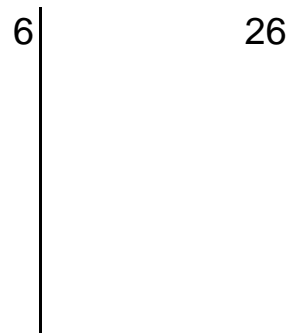
_____ = _____
kgV von (4 /50) _____

Suche den ggT von (15 / 50)



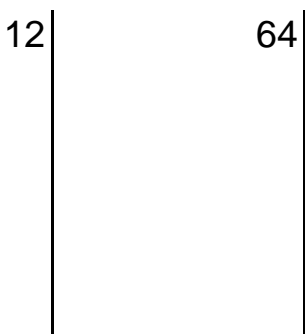
gF _____ = _____
ggT von (15 /50) _____

Suche das kgV von (6 / 26)




_____ = _____
kgV von (6 /26) _____

Suche den ggT von (12 / 64)



gF _____ = _____
ggT von (12 /64) _____

Suche das kgV von (8 / 15)



_____ = _____
kgV von (8 /15) _____

© Christian Graf PHS Krems

Die Ergebnisse:

5	4	120	2	100	78
---	---	-----	---	-----	----