


ggT und kgV Übung

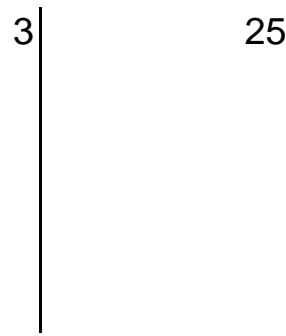
Name: _____

Suche den ggT von (8 / 28)



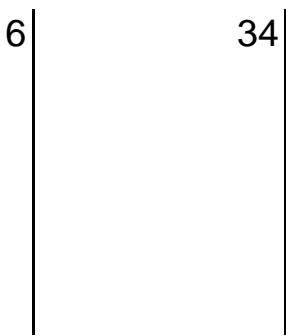
gF _____ = _____
ggT von (8 /28) _____

Suche das kgV von (3 / 25)




_____ = _____
kgV von (3 /25) _____

Suche den ggT von (6 / 34)



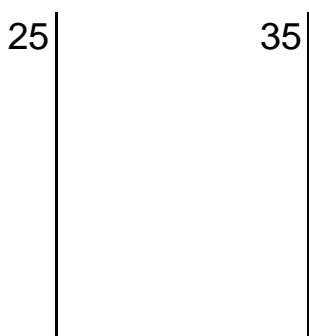
gF _____ = _____
ggT von (6 /34) _____

Suche das kgV von (4 / 18)




_____ = _____
kgV von (4 /18) _____

Suche den ggT von (25 / 35)



gF _____ = _____
ggT von (25 /35) _____

Suche das kgV von (6 / 15)



_____ = _____
kgV von (6 /15) _____

© Christian Graf PHS Krems

Die Ergebnisse:

2	5	30	4	75	36
---	---	----	---	----	----